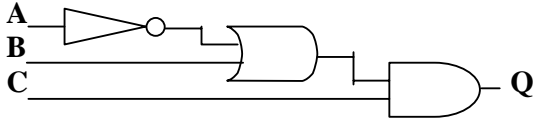
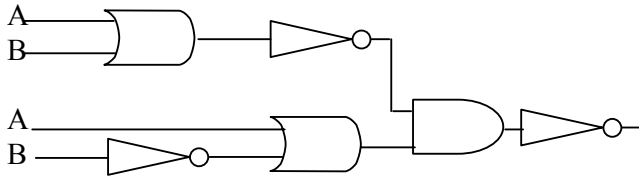


8-A SINIFI IV. ÇEYREK BİLGİSAYAR
SINAVI
6 Mayıs 1998

- 1- a) Word Processor (kelime işlemci) ne demektir? Kısaca yazınız
b) Bildiğiniz 2 tane kelime işlemci programının adını yazınız.
- 2- PW de FILE /PRINT menüsü ile hangi işlemleri yapabiliriz ? Yazınız.
- 3- PW de önceden yazılan bir dosyayı ekrana getirmek için ne yapmalıyız ? Sırayla yazınız.
- 4- PW de bir yazıyı printerden çıkarırken ekrana gelen PRINT OPTIONS menüsündeki **Print Sytle** komutu ne için kullanılır ?
- 5- PW de yazı yazarken bu yazıyı satır satır işaretlemek için ne yapmalıyız ?
- 6- **PASTE** komutunun ne için kullanıldığını açıklayınız.
- 7- **SET TOP/BOTTOM MARGINS & PAGE LENGTH** komutu ne için kullanılır ?
- 8- Aşağıdaki şekildeki A B C girişlerine göre Q değerlerini bulup , tabloda gösteriniz.



- 9- Aşağıdaki devrenin formülünü yazınız.

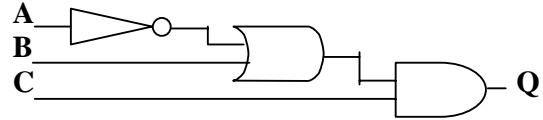


- 10- $Q = \overline{AB} + (\overline{C} + \overline{B} + \overline{A}) + (ABC)$
Formülünün devresini çiziniz.

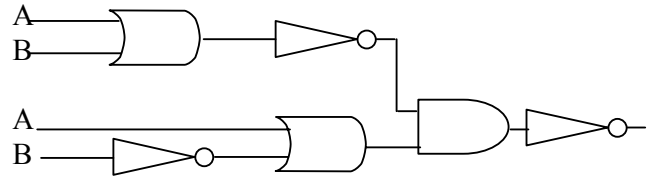
Her Soru 10 Puandır
BAŞARILAR

8-A SINIFI IV. ÇEYREK BİLGİSAYAR
SINAVI
6 Mayıs 1998

- 1- a) Word Processor (kelime işlemci) ne demektir? Kısaca yazınız
b) Bildiğiniz 2 tane kelime işlemci programının adını yazınız.
- 2- PW de FILE /PRINT menüsü ile hangi işlemleri yapabiliriz ? Yazınız.
- 3- PW de önceden yazılan bir dosyayı ekrana getirmek için ne yapmalıyız ? Sırayla yazınız.
- 4- PW de bir yazıyı printerden çıkarırken ekrana gelen PRINT OPTIONS menüsündeki **Print Sytle** komutu ne için kullanılır ?
- 5- PW de yazı yazarken bu yazıyı satır satır işaretlemek için ne yapmalıyız ?
- 6- **PASTE** komutunun ne için kullanıldığını açıklayınız.
- 7- **SET TOP/BOTTOM MARGINS & PAGE LENGTH** komutu ne için kullanılır ?
- 8- Aşağıdaki şekildeki A B C girişlerine göre Q değerlerini bulup , tabloda gösteriniz.



- 9- Aşağıdaki devrenin formülünü yazınız.



- 10- $Q = \overline{AB} + (\overline{C} + \overline{B} + \overline{A}) + (ABC)$
Formülünün devresini çiziniz.

Her Soru 10 Puandır
BAŞARILAR

